




**BİLSEM
ZEKA**

TABLET SINAVINA
UYGUNDUR

BİLSEM DENEME SINAVI



Adı soyadı: _____

Okulu: _____

Sınıfı: _____

Numarası: _____



Google Play



App Store




bilsemzeka.com



[bilsem_zeka](https://www.instagram.com/bilsem_zeka)

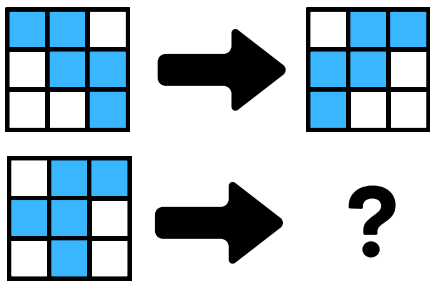
SORU 1



Soru işareti yerine hangi resim gelmelidir ?

- A) B)
- C) D)


SORU 2



Soru işareti yerine hangi şekil gelmelidir ?

- A)
- B)
- C)
- D)

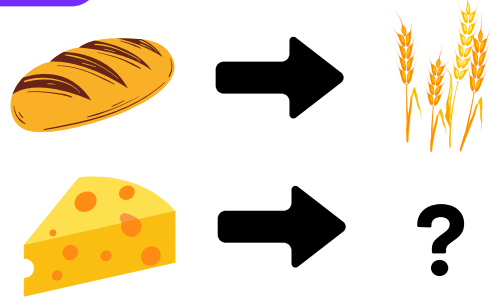
SORU 3



Soru işareti yerine hangi şekil gelmelidir ?

- A)
- B)
- C)
- D)

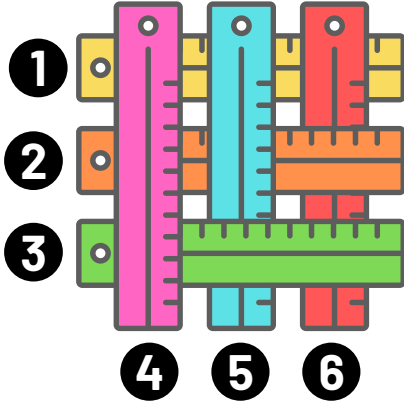
SORU 4



Soru işareti yerine hangi resim gelmelidir ?

- A)
- B)
- C)
- D)

SORU 5




Cetvellerin en üstten en alta doğru sıralaması hangi şıkta verilmiştir?

A) 4 3 5 2 6 1 B) 4 3 2 5 6 1

C) 4 5 3 2 6 1 D) 4 3 5 6 2 1

SORU 6




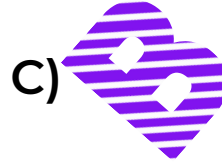
Yukarıda verilen şekilde herhangi bir boyutta toplam kaç kare vardır ?

A) 9 B) 10

C) 13 D) 14

SORU 7

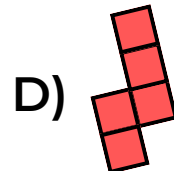
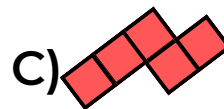
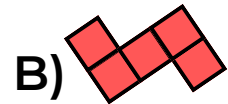
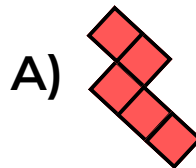
Aşağıdakilerden hangisi bir yönüyle diğerlerinden farklıdır ?



BİLSEM ZEKA

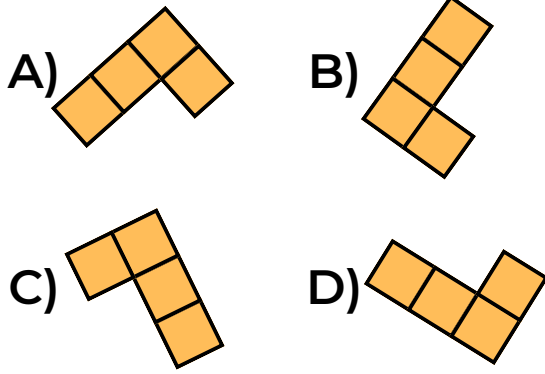
SORU 8

Aşağıdakilerden hangisi bir yönüyle diğerlerinden farklıdır ?



SORU 9

Aşağıdakilerden hangisi bir yönüyle diğerlerinden farklıdır ?



SORU 10

1-4-3-6-5-8-?

Soru işareti yerine hangi sayı gelmelidir ?

- A) 7 B) 9
C) 11 D) 13

SORU 11



Yukarıda anlatılmak istenen kelime hangisidir ?

- A) TAŞ B) TIRAŞ
C) TARIM D) YARIŞ


SORU 12

Aşağıdaki şıklardaki ikili eşleşmelerde anlam ve mantık ilişkisi vardır.

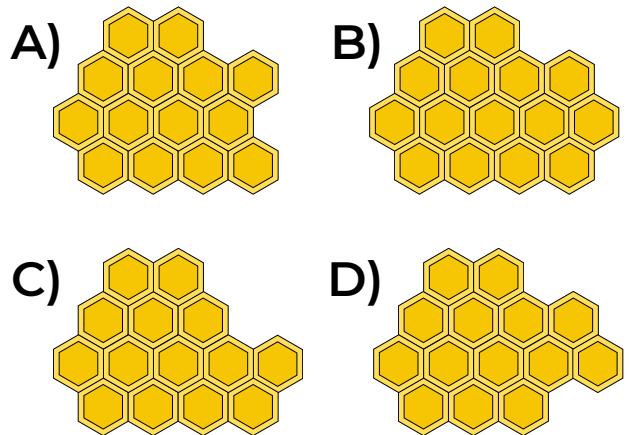
Buna göre, hangisinde diğerlerinden farklı bir ilişki bulunmaktadır?

- A) Köpek-Enik
B) Tavuk-Civciv
C) At-Tay
D) İnek-Buzağı

SORU 13



Soru işareti yerine hangi şekil gelmelidir ?



SORU 14

$$\begin{aligned} \text{Strawberry} + \text{Banana} &= 8 \\ \text{Banana} + \text{Banana} + \text{Banana} &= 9 \\ \text{Strawberry} - \text{Banana} &= ? \end{aligned}$$



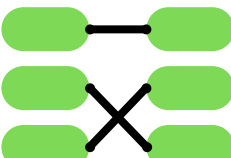

Soru işareti yerine hangi sayı gelmelidir ?

- A) 1 B) 2
C) 3 D) 4

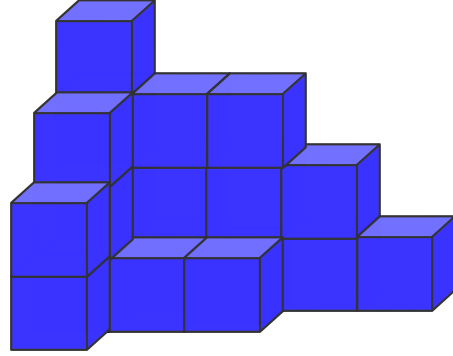
SORU 15

Aşağıdakilerden hangisinde eş anlamlı kelimeler doğru eşleştirilmiştir?

- İstikbal • Kararlılık
İstikrar • Bağımsızlık
İstiklal • Gelecek

- A)  B) 
- C)  D) 

SORU 16



Yukarıdaki şekilde toplam kaç birim küp vardır ?

- A) 18 B) 19
C) 20 D) 21

BİLSEM ZEKA

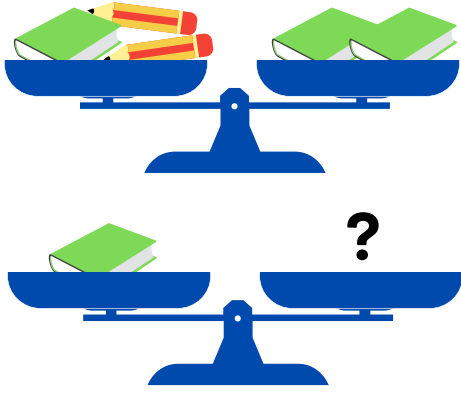
SORU 17

A-B-Ç-F-I-M-S-?

Soru işareti yerine hangi harf gelmelidir ?





- A) Ü B) V
C) Y D) Z

SORU 18




İlk terazi dengededir.

Buna göre, ikinci terazinin de dengede kalabilmesi için terazinin sağ kefesine hangisi konulmalıdır?

- A)  B) 
- C)  D) 

SORU 19



Yukarıdaki duvarın ortasından kaç tuğla çıkarılmıştır?

- A) 9 B) 10
C) 11 D) 12

SORU 20

ZEKA	3746
KEZA	4736
EZKA	7436

Yukarıdaki kelimeler, sayılar ile şifrelenmiştir. Kelimeler ve şifreledikleri sayılar karışık bir şekilde verilmiştir.

Buna göre, ZEKA kelimesinin şifresi hangisidir ?

- A) 3746 B) 4736
C) 7436 D) 4376

BİLSEM ZEKA

BİLSEM ZEKA İNDİRİM KODU

Bilsem Zeka olarak bu denemeyi çözen herkese % 20 indirim kodu hediye ediyoruz.

İndirim kodunuz 31 Ocak 2023'e kadar geçerlidir.

İşte yapmanız gerekenler:

1- Google Play veya App Store'dan telefonunuza veya tabletinize BİLSEM ZEKA uygulamasını indirin.

2- Uygulama içindeki Paket Satın Al sayfasından 1 / 3 / 6 aylık dilediğiniz bir paketi seçin.

3- BİLSEMDENEME20 kodu ile paket satın alın.

DENEME ÇÖZÜM VİDEOSU

Yandaki karekodu okutarak Hasan Öğretmenimiz'in anlatımıyla tüm soruların çözümlerine ulaşabilirsiniz.

